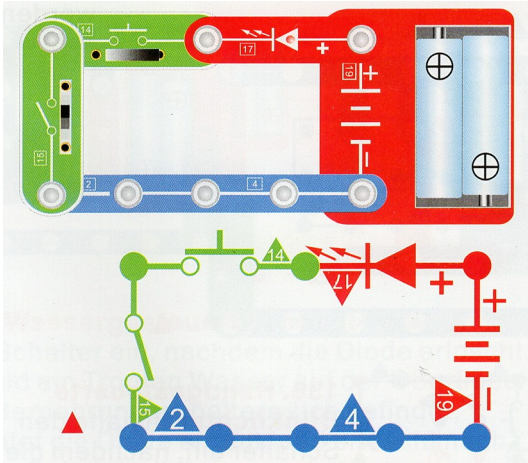


Arbeitsblatt 10. Übung: OR-AND-NAND

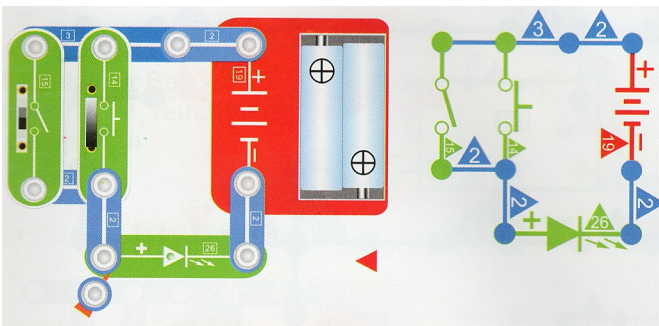
Baut die Schaltung wie unten auf und überprüft die Tabellen

Und-Schaltung



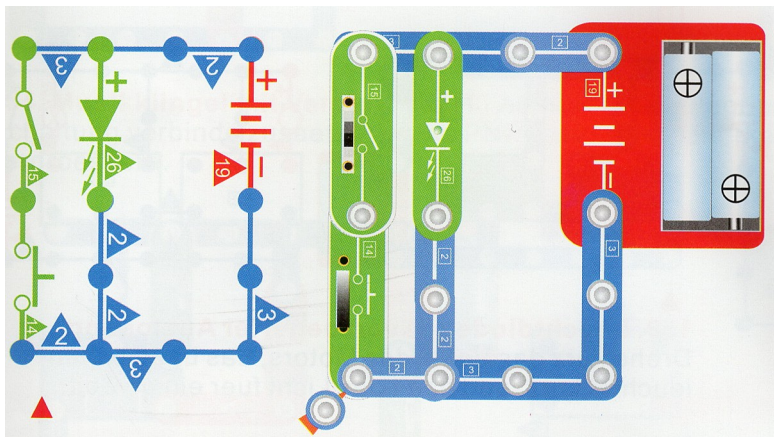
	B	
	0	1
A	0	1
	1	

Oder-Schaltung



	B	
	0	1
A	0	1
	1	

Nicht-Und-Schaltung



	B	
	0	1
A	0	1
	1	